


KW 9: Gabeln

Bitte Notiere die richtigen Züge - wenn Du möchtest auch die Zeit - auf dem ausgedruckten Blatt oder/und sende die richtigen Züge je Diagramm an: dirk.jordan@ran-ans-brett.de oder Ran an's Brett e.V. Oskar-Mai-Str. 6, 01159

Vorname: _____ Name: _____ Alter: _____ Strasse: _____ PLZ: _____

In der letzten Woche haben wir Doppelangriffe kennengelernt. In dieser Woche spielen ganz Besondere nämlich Gabeln die Hauptrolle. Die Idee ist mit einem Springer oder einem Bauern zwei Ziele gleichzeitig anzugreifen. Das nennt man dann Springer oder Bauern-Gabel.

Hier ein Beispiel für eine Gabel auf zwei wertvolle gegnerische Figuren:



Weiß am Zug

1.Sb6 würde eine Gabel erzeugen, wäre aber ein Fehler, da Schwarz nun den Springer entweder mit 1...Txb6 oder 1...axb6 schlagen könnte.


Die Lösung lautet 1.Se5 und Weiß greift gleichzeitig Dame und Turm von Schwarz an. Natürlich sollte Schwarz die Dame ziehen (die wertvollere der beiden Figuren). Aber dann erobert Weiß den Turm (auf c6). Schwarz würde zumindest den Springer für den verlorenen Turm bekommen, zum Beispiel mit 1... Db7 2.Sxc6 Dxc6. Infolge dieser Züge hat Weiß eine Qualität gewonnen, das bedeutet Weiß hat einen Springer gegen einen Turm getauscht und somit 2 Punkte erobert.

Jetzt findest Du wieder 12 Beispiele für Gabeln. Habe viel Spaß beim Üben und Lösen!




Diese Maßnahme wird mitfinanziert durch Steuermittel auf der Grundlage des vom Sächsischen Landtag beschlossenen Haushaltes.

Weiß am Zug ○ (1)




1. _____ Zeit: 1 _____
 2. _____ 2 _____

○ (4)




1. _____ Zeit: 1 _____
 2. _____ 2 _____

○ (2)




1. _____ Zeit: 1 _____
 2. _____ 2 _____

Schwarz am Zug ● (5)




1... _____ 2. _____ Zeit: 1 _____
 2... _____ 2 _____

○ (3)




1. _____ Zeit: 1 _____
 2. _____ 2 _____

● (6)




1... _____ 2. _____ Zeit: 1 _____
 2... _____ 2 _____

● (7)




1... _____ 2. _____ Zeit: 1 _____
 2... _____ 2 _____

○ (10)




1. _____ Zeit: 1 _____
 2. _____ 2 _____

● (8)




1... _____ 2. _____ Zeit: 1 _____
 2... _____ 2 _____

○ (11)




1. _____ Zeit: 1 _____
 2. _____ 2 _____

Weiß am Zug ○ (9)



1. _____ Zeit: 1 _____
 2. _____ 2 _____

○ (12)



1. _____ Zeit: 1 _____
 2. _____ 2 _____